

EDUCAÇÃO DE JOVENS, ADULTOS E IDOSOS- EJA

EJA I: MÓDULOS: I e II

TEMA: LINGUAGENS E CÓDIGOS

HABILIDADES:

- LOCALIZAR UMA INFORMAÇÃO EXPLÍCITA EM UM TEXTO.
- INTERPRETAR TEXTOS COM AUXÍLIO DE MATERIAL GRÁFICO.
- RECONHECER A FINALIDADE DO TEXTO.
- INFERIR O SENTIDO DE UMA PALAVRA OU EXPRESSÃO.
- INFERIR UMA INFORMAÇÃO IMPLÍCITA EM UM TEXTO.
- IDENTIFICAR O EFEITO DE IRONIA E DE HUMOR.
- ESTABELECEER RELAÇÃO DE CAUSA E CONSEQUÊNCIA ENTRE PARTES E ELEMENTOS DE UM TEXTO.

AULA 1: LÍNGUA PORTUGUESA

1 – LEIA O TEXTO A SEGUIR E RESPONDA AS QUESTÕES

A PANDEMIA DO NOVO CORONAVÍRUS TEM IMPOSTO O ISOLAMENTO SOCIAL E MUITOS CUIDADOS COM O CORPO E A MENTE. ASSIM DEVEMOS NOS RECOLHER EM CASA, LAVAR AS MÃOS E USAR ÁLCOOL GEL SÃO AS FORMAS MAIS INDICADAS PARA PREVENIR-SE DA CONTAMINAÇÃO.

A) MARQUE COM UM X OS CUIDADOS QUE DEVEMOS TER COM NOSSO CORPO

COMER COMIDAS GORDUROSAS

ABUSAR DAS BEBIDAS ALCÓOLICAS

LAVAR AS MÃOS FREQUENTEMENTE

FUMAR

DORMIR BEM

FAZER ATIVIDADE FÍSICA

B) MARQUE COM UM X OS CUIDADOS COM A NOSSA MENTE

ASSISTIR TELEVISÃO

DORMIR SEMPRE TARDE

LER UM BOM LIVRO

PENSAR POSITIVO

CUIDAR DO SONO

ABUSAR DAS BEBIDAS ALCÓOLICAS

2 – NA SUA OPINIÃO, QUAIS OS CUIDADOS DEVEMOS TER EM NOSSA CASA?

3 – VAMOS VER SE VOCE DESCOBRE QUAIS SÃO AS PALAVRAS QUE ESTÃO FALTANDO? VEJA AS DICAS.

A- CONTE O NÚMERO DE QUADRADINHOS DA PALAVRA QUE VOCÊ VAI COMPLETAR, ASSIM VOCE SABERÁ QUANTAS LETRAS TEM A PALAVRA.

B – LEIA A LISTA DE PALAVRAS COM ESSE NÚMERO DE LETRAS, PARA DESCOBRIR QUAL A CERTA.

O MACACO FOI A

--	--	--	--	--

NÃO SABIA O QUE COMPRAR

COMPROU UMA

--	--	--	--	--	--	--

PARA A COMADRE SE SENTAR

A COMADRE SE

--	--	--	--	--	--

A CADEIRA ESCORREGOU

COITADA DA COMADRE FOI PARAR NO

--	--	--	--	--	--	--	--

5	6	7	8
FESTA	SOBROU	CADEIRA	CANTEIRO
FONTE	SENTOU	COSTELA	CORREDOR
FEIRA	CEBOLA	CASTELO	CANTADOR

4 - ESCREVA AS PALAVRAS NA CRUZADINHA ABAIXO, UTILIZANDO AS PALAVRAS DO BANCO, REFERENTES A PREVENÇÃO DA COVID-19.

			M						
			A						
			S						
			C						
			A						
			R						
			A						

4 LETRAS	5 LETRAS	9 LETRAS	11 LETRAS
MÃES	LUTAS	AVIAMENTO	COMPREENSÃO
MÃOS	LIMAS	ATIVIDADE	COMUNIDADES
CÃES	LUVAS	ALIMENTOS	CORONAVIRUS
ALGA	LIVRO	AMBIENTES	CONDOLÊNCIA
ÁGUA	SAÚDE	ÁLCOOL GEL	
ANTA		ALÉRGICOS	

FESTA JUNINA

O BALÃO VAI SUBINDO,
VAI CAINDO A GAROA .
O CÉU É TÃO LINDO
E A NOITE É TÃO BOA!
SÃO JOÃO, SÃO JOÃO,
ACENDA A FOGUEIRA
DO MEU CORAÇÃO.



5 – CIRCULE TODAS AS PALAVRAS QUE APARECEM NO TEXTO. COMPLETE AS PALAVRAS COM AS LETRAS ABAIXO:

A	E	I	O	U
----------	----------	----------	----------	----------


B	A	L	Ã	O
B		L		O
B		L	Ã	



F	O	G	U	E	I	R	A
F		G		E		R	




C	É	U
C		



C	O	R	A	Ç	Ã	O
C		R		Ç		



6 – ESCREVA UM PEQUENO TEXTO SOBRE COMO COMEMORAR AS FESTAS JUNINAS EM CASA NESSA PANDEMIA.



AULA 2: MATEMÁTICA

TEMA: NÚMEROS E OPERAÇÕES

HABILIDADES:

- DESENVOLVER O SENTIDO NUMÉRICO E A COMPREENSÃO DAS REGRAS QUE CARACTERIZAM O SISTEMA DE NUMERAÇÃO DECIMAL.
- LER E PRODUIR ESCRITA DOS NÚMEROS NATURAIS ATÉ A ORDEM DAS CENTENAS.
- RESOLVER SITUAÇÕES-PROBLEMA COM NÚMEROS NATURAIS, ENVOLVENDO DIFERENTES SIGNIFICADOS DA ADIÇÃO E SUBTRAÇÃO.
- RESOLVER SITUAÇÕES-PROBLEMA COM NÚMEROS NATURAIS, ENVOLVENDO DIFERENTES SIGNIFICADOS DA MULTIPLICAÇÃO E DIVISÃO.

1 – COMPLETE A SEQUÊNCIA NUMÉRICA.

1	2							
								18
		21						
				32				
						43		
								54

2 – COLOQUE OS NUMERAIS ABAIXO NA ORDEM CRESCENTE

5 – 2 – 7 – 9 – 17 – 12 – 3 – 15 – 20 – 10

3 - ESCREVA AS INFORMAÇÕES QUE SERÃO PEDIDAS ABAIXO:

- A) O NUMERAL QUE REPRESENTA UMA DEZENA _____
- B) O NUMERAL QUE REPRESENTA UMA DÚZIA _____
- C) O NUMERAL QUE REPRESENTA DUAS DEZENAS E TRÊS UNIDADES É _____
- D) TRÊS NÚMEROS PARES _____, _____, _____

4 – RESPONDA AS QUESTÕES ABAIXO ESCRIVENDO OS NÚMEROS RELACIONADOS AS INFORMAÇÕES DE SUA VIDA:

- A) IDADE.....
- B) DATA DE NASCIMENTO.....
- C) NÚMERO DO ENDEREÇO.....
- D) QUANTIDADE DE FILHOS.....
- E) QUANTOS LOCAIS QUE VOCÊ TRABALHO.....,
- F) TELEFONE.....
- G) NÚMERO DO ÔNIBUS QUE VOCÊ UTILIZA.....
- H) QUANTIDADE DE IRMÃOS.....
- I) SEU PESO.....
- J) PESSOAS QUE MORAM EM SUA CASA.....

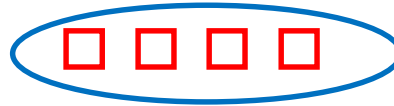
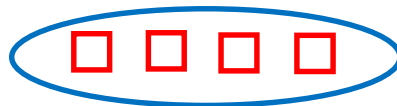
5 – REALIZE AS MULTIPLICAÇÕES, CONFORME EXEMPLO ABAIXO:

$3 \times 2 = 2 + 2 + 2 = 6$

- A) 3×5 :
- B) 2×8 :
- C) 3×3 :
- D) 3×6 :
- E) 2×4 :
- F) 3×2 :

6–REPRESENTE AS MULTIPLICAÇÕES NO CADERNO, POR MEIO DE DESENHOS COMO NO EXEMPLO:

$2 \times 4 = 8$



- A) 3×3
- B) 2×2
- C) 2×5
- D) 4×3

DICA: Cuide de você e das pessoas ao seu redor. Todos contra o coronavírus!